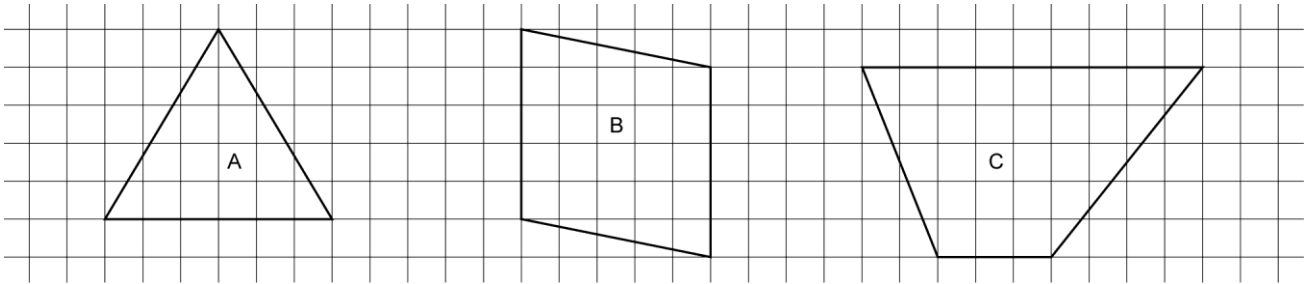


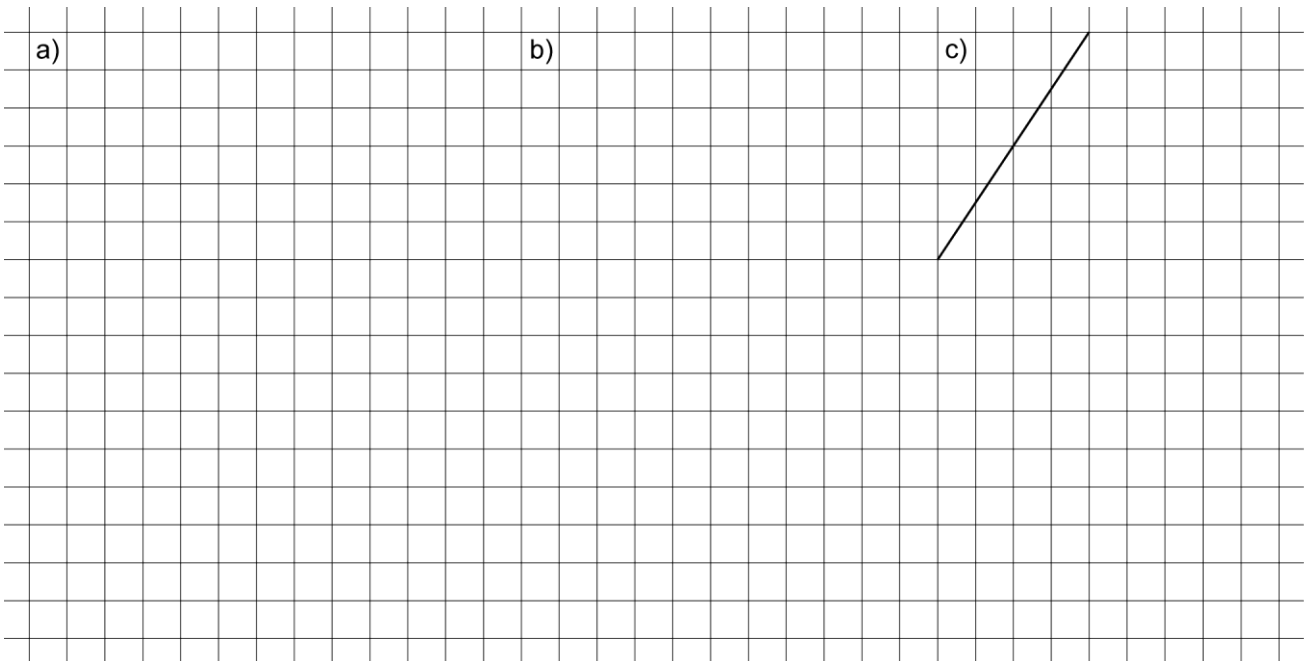
Trainingsblatt

- 1 Bestimme den Flächeninhalt der Figuren A bis C in Kästchen.

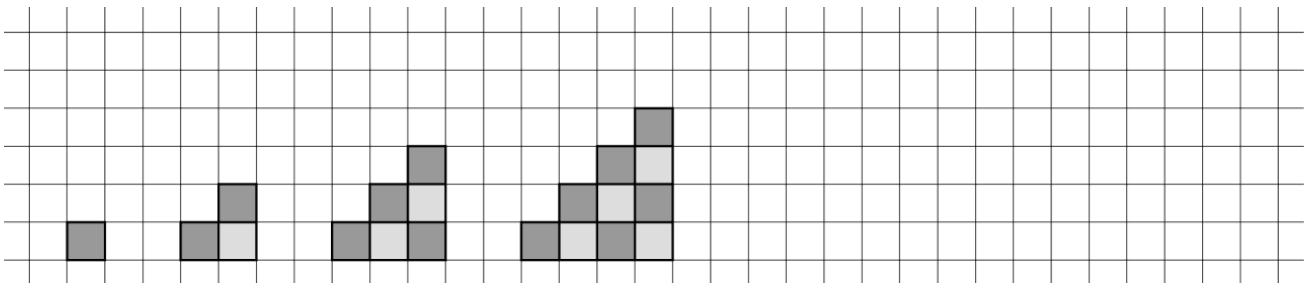


- 2 Zeichne folgende Figuren.

- Ein Dreieck mit dem Flächeninhalt 18 Kästchen.
- Ein Parallelogramm mit dem Flächeninhalt 22 Kästchen.
- Ergänze so, dass eine Raute mit dem Flächeninhalt 24 Kästchen entsteht.



- 3 Annika legt Figuren aus schwarzen und weißen Quadraten nach folgendem Schema.



a) Wie viele Quadraten benötigt Annika für Figur 6? _____

b) Aus wie vielen schwarzen Quadraten würde Figur 11 bestehen? Begründe deine Antwort.
