



WISSEN

Tonwiederholung, Tonschritt, Tonsprung


1) Tonwiederholung: Wiederholung von zwei identischen Tönen.



2) Tonschritt: Fortschreiten zum nächst höher oder tiefer gelegenen Stammton oder dessen Ableitung.



3) Tonsprung: Überspringen von Tönen.



Die Dur-Tonleiter

Die Dur-Tonleiter besteht aus acht Tönen. Zeichne ein bzw. markiere: Tonnamen, Ganztonschritte [], Halbtone \sphericalangle , Grundton und Leitton. Ergänze dann die Lücken in den drei Merksätzen:

- 1) Bei der Dur-Tonleiter liegen die Halbtone zwischen der _____ und _____ sowie der _____ und _____ Stufe.
- 2) Der Name der Tonleiter wird durch den Ton auf der ersten Stufe bestimmt. Rechts ist die _____-Dur-Tonleiter abgebildet.
- 3) Wenn man die Tonleiter teilt, erhält man zwei gleiche Hälften mit jeweils _____ Tönen. Diese zwei Hälften haben den gleichen Aufbau: jeweils zwei _____ und einen _____.



Aufgabe 9

Bestimme: Ganz- und Halbtone (GT bzw. HT). Markiere zusätzlich mit dem entsprechenden Zeichen ([] bzw. \sphericalangle).