













Intervalle lesen, schreiben und hören

Sekunde, Terz, Quinte, Oktave

Aufgabe 1

Sieh dir die Intervalle in der linken Spalte der Tabelle an und benenne sie. Hör sie dann in 14 und gib an, welches Intervall in welchem Beispiel (Ansage 1–4) erklingt. Mach es dann mit der mittleren Spalte (15) und der rechten Spalte (16) genauso.













14	15	16
 <p>Intervall: Quinte</p> <p>Beispiel: <input type="text" value="2"/></p>	 <p>Intervall: Quinte</p> <p>Beispiel: <input type="text" value="1"/></p>	 <p>Intervall: Sekunde</p> <p>Beispiel: <input type="text" value="2"/></p>
 <p>Intervall: Oktave</p> <p>Beispiel: <input type="text" value="4"/></p>	 <p>Intervall: Sekunde</p> <p>Beispiel: <input type="text" value="4"/></p>	 <p>Intervall: Terz</p> <p>Beispiel: <input type="text" value="3"/></p>
 <p>Intervall: Terz</p> <p>Beispiel: <input type="text" value="1"/></p>	 <p>Intervall: Oktave</p> <p>Beispiel: <input type="text" value="3"/></p>	 <p>Intervall: Quinte</p> <p>Beispiel: <input type="text" value="4"/></p>
 <p>Intervall: Sekunde</p> <p>Beispiel: <input type="text" value="3"/></p>	 <p>Intervall: Terz</p> <p>Beispiel: <input type="text" value="2"/></p>	 <p>Intervall: Oktave</p> <p>Beispiel: <input type="text" value="1"/></p>

Aufgabe 2

Intervall-Rätsel

Trag das angegebene Intervall im ersten Kästchen ein. Such dann den eingetragenen Ton in einem anderen Kästchen und mach es dort ebenso. Ist in einem Kästchen ein Tonbeispiel (17, Beispiel 1–4) angegeben, dann kreuz das dort gehörte Intervall und die Richtung an und notiere schließlich den entsprechenden Ton in den Noten. Wie heißt der letzte Ton?

BEGINN

 <p>Quinte nach oben</p>	 <p><input type="checkbox"/> Oktave <input checked="" type="checkbox"/> Sekunde <input type="checkbox"/> nach oben <input checked="" type="checkbox"/> nach unten</p> <p>17 Beispiel 1</p>	 <p>Oktave nach oben</p>	 <p>Quinte nach unten</p>
 <p><input checked="" type="checkbox"/> Oktave <input type="checkbox"/> Quinte <input type="checkbox"/> nach oben <input checked="" type="checkbox"/> nach unten</p> <p>17 Beispiel 3</p>	 <p>Terz nach unten</p>	 <p><input checked="" type="checkbox"/> Terz <input type="checkbox"/> Sekunde <input checked="" type="checkbox"/> nach oben <input type="checkbox"/> nach unten</p> <p>17 Beispiel 2</p>	 <p>Sekunde nach unten</p>
 <p>Quinte nach oben</p>	 <p>Sekunde nach oben</p>	 <p>Terz nach oben</p>	 <p><input type="checkbox"/> Terz <input checked="" type="checkbox"/> Quinte <input checked="" type="checkbox"/> nach oben <input type="checkbox"/> nach unten</p> <p>17 Beispiel 4</p>

Der letzte eingetragene Ton ist ein e².